


¡A juntar manzanas!


Camila y sus amigos tenían ocho manzanas rojas, y Sergio y sus amigos tenían diez manzanas verdes. Si decidieron compartir sus frutas, ¿cuántas manzanas reunieron entre todos?

1. Relaciona las columnas.

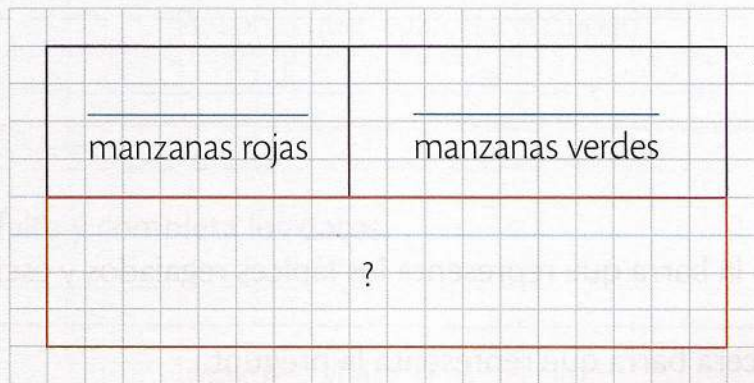
Manzanas de Sergio y sus amigos



Manzanas de Camila y sus amigos



2. Completa la barra unidad con los datos que faltan.



3. Rodea la operación que relaciona de forma correcta los datos del problema.

$$\begin{array}{r} 8 \\ + 10 \\ \hline 18 \end{array}$$

$$\begin{array}{r} 10 \\ - 8 \\ \hline 2 \end{array}$$

4. Anota la respuesta.
