

CUADERNO PDF

1º EDUCACIÓN PRIMARIA



UNIDADES


DE CAPACIDAD



WWW.MATEMATICASINCLUSIVAS.COM



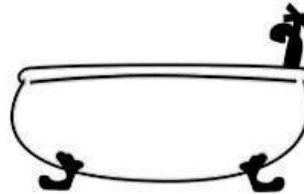
Colorea los recipientes: cabe más y cabe menos



.....

.....

Compara la capacidad de los recipientes:






¿En qué recipiente cabe más agua?

¿Y en qué recipiente cabe menos agua?



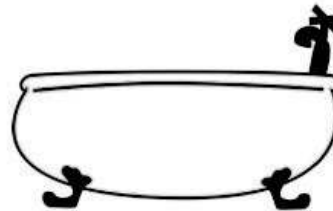
.....

.....

Ordena de **mayor a menor** los **recipientes** según su **capacidad**:





Ordena de **mayor a menor** los **recipientes** según su **capacidad**:




Colorea el recipiente donde cabe más de un litro:



Colorea el recipiente donde cabe menos de un litro:



Colorea los recipientes: **cabe más** y **cabe menos**



Vicente Molinero Claramunt

Compara la **capacidad** de los **recipientes**:







¿En qué recipiente **cabe más** agua?


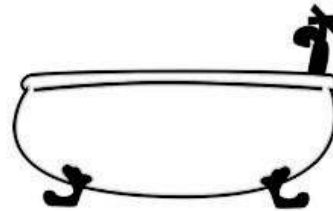
¿Y en qué recipiente **cabe menos** agua?

Vicente Molinero Claramunt


Ordena de **menor a mayor** los **recipientes** según su **capacidad**:



Ordena de **menor a mayor** los **recipientes** según su **capacidad**:




Colorea el recipiente donde cabe más de un litro:



.....

.....

Colorea el recipiente donde cabe menos de un litro:



.....

.....