



CUADERNO PDF

1º EDUCACIÓN PRIMARIA



ORIENTACIÓN

ESPACIAL




WWW.MATEMATICASINCLUSIVAS.COM



¿Dónde se encuentra la **pelota**? ¿**Arriba** o **abajo** del **mathster**? Escribe:





Three horizontal lines for writing the answer.





Three horizontal lines for writing the answer.

¿Dónde se encuentra la **pelota**? ¿**Arriba** o **abajo** del **mathster**? Colorea:





Observa y colorea los **cohetes**: **subir** y **bajar**



Vicente Molinero Claramunt

Observa y colorea los **cohetes**: **subir** y **bajar**





Vicente Molinero Claramunt


Observa dónde está la **pelota** y escribe: **cerca**, **lejos** y **alrededor**



Colorea: **cerca**, **lejos** y **alrededor**




Colorea los **mathsters** que están **delante**, **detrás** y **a un lado** de la **pelota**:



.....

.....




Escribe y colorea: **delante**, **detrás** y **a un lado**






.....

.....


Observa dónde está el **mathster** y escribe: **dentro** y **fuera**



Observa dónde está el **mathster** y colorea: **dentro** y **fuera**




Observa dónde están los **mathsters** y colorea: **juntos** y **separados**



.....

.....


Observa dónde están los **mathsters** y colorea: **juntos** y **separados**



.....

.....


Colorea el **mathster** que se encuentra **en medio**:



.....

.....


Colorea el **mathster** que se encuentra **en medio**:



.....

.....


Colorea los coches según su posición en la carrera:
primero y último



.....

.....


Colorea los coches según su posición en la carrera:
primero y último



.....

.....


Observa hacia dónde miran los **mathsters** y colorea: **derecha** e **izquierda**



.....

.....

Observa hacia dónde miran los **mathsters** y escribe: **derecha** e **izquierda**



.....

.....

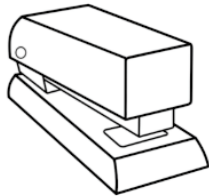
Reproduce las siguientes **instrucciones**:

- 1) Coge el lápiz con la mano **derecha**.
- 2) Levanta la mano **izquierda**.
- 4) Tócate la nariz con la mano **derecha**.
- 5) Gira la cabeza hacia tu **izquierda**.
- 3) Levanta la pierna **derecha**.
- 6) Con la mano **izquierda**, tócate la oreja **izquierda**.

Reproduce las siguientes **instrucciones**:

- 1) Tócate la nariz con la mano **derecha**.
- 2) Con la mano **izquierda**, tócate la oreja **derecha**.
- 3) Levanta la pierna **izquierda**.
- 4) Levanta la mano **derecha**.
- 6) Gira la cabeza hacia tu **izquierda**.
- 5) Coge el lápiz con la mano **derecha**.

Sitúa los **objetos** en el **espacio del aula**:



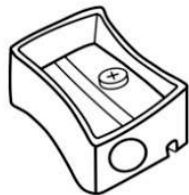
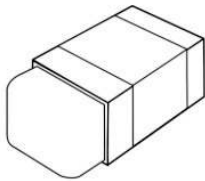
Detrás de ti: Pincel

A tu izquierda: Grapadora

Delante de ti: Tijeras

A tu derecha: Lápiz

Sitúa los **objetos** en el **espacio del aula**:



A tu izquierda: Mochila

A tu derecha: Goma

Detrás de ti: Pincel

Delante de ti: Sacapuntas

Fíjate en el **aula** y escribe los **objetos** que hay en unas **posiciones**:

A mi **izquierda** hay

Detrás de mí hay

Encima de mí hay

A mi **derecha** hay

Delante de mí hay

Fíjate en el **aula** y escribe los **objetos** que hay en unas **posiciones**:

Delante de mí hay

Detrás de mí hay

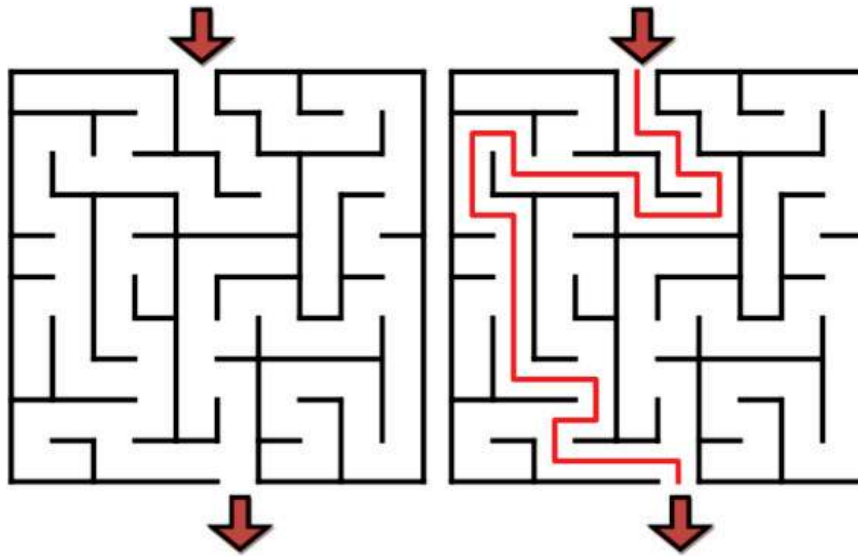
A mi **derecha** hay

A mi **izquierda** hay

Encima de mí hay

(1°_Esp_13) Realizar sencillos itinerarios siguiendo diversas órdenes espaciales.



Observa el **laberinto** solucionado y traza el **camino** explicándolo:



Vicente Molinero Claramunt

(1°_Esp_13) Realizar sencillos itinerarios siguiendo diversas órdenes espaciales.

Observa el **laberinto** y traza el **camino** explicándolo:



Vicente Molinero Claramunt