



CUADERNO PDF

1º EDUCACIÓN PRIMARIA



UNIDADES

LONGITUD



Identifica las **dimensiones** del **objeto** y cuenta las medidas:



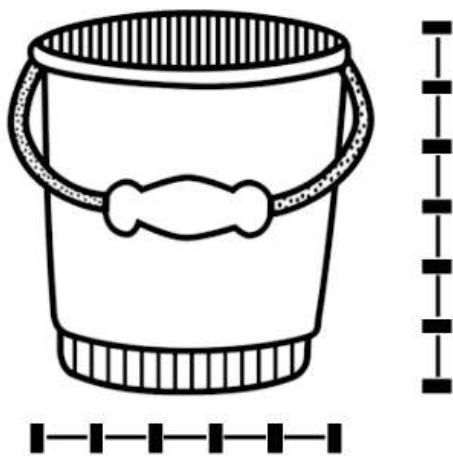
Mide unidades de **largo**

Mide unidades de **alto**

.....

.....

Identifica las **dimensiones** del **objeto** y cuenta las medidas:



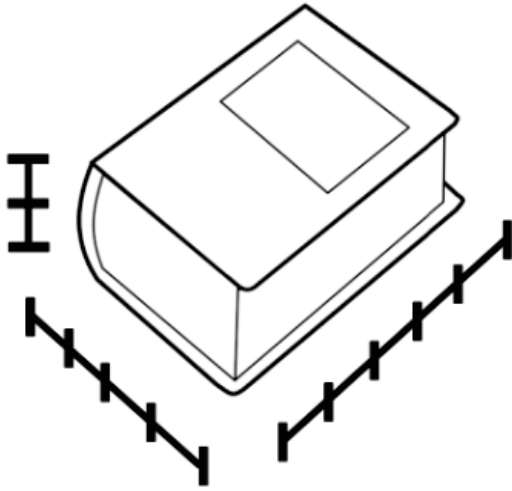
Mide unidades de **largo**

Mide unidades de **alto**

.....

.....

Identifica las **dimensiones** del **objeto** y cuenta las medidas:



Mide unidades de **largo**

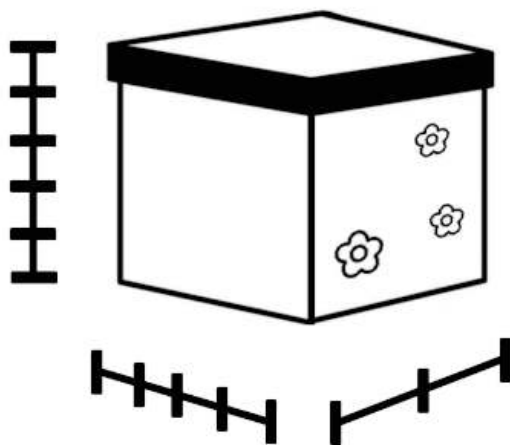
Mide unidades de **alto**

Mide unidades de **ancho**

.....

.....

Identifica las **dimensiones** del **objeto** y cuenta las medidas:



Mide unidades de **ancho**

Mide unidades de **largo**

Mide unidades de **alto**

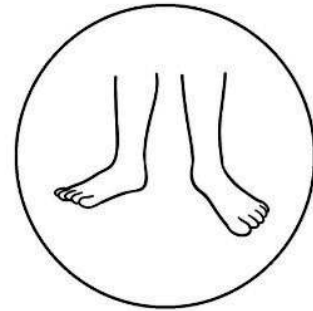
.....

.....


Une y colorea las **imágenes** con su **significado**:



Pie




Paso



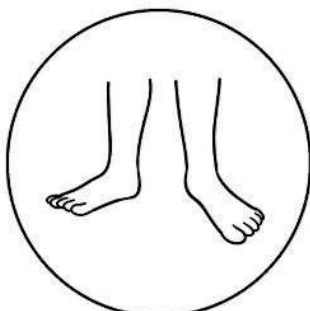
Palmo

Une y colorea las **imágenes** con su **significado**:

Palmo



Paso



Pie



(1º Long_04) Realizar mediciones utilizando medidas no convencionales de longitud: Palmo - Pie - Paso.

Mide la **ventana** utilizando los **palmos**, los **pies** y los **pasos**:

¿Cuánto mide? Escríbelo:







Vicente Molinero Claramunt

(1º Long_04) Realizar mediciones utilizando medidas no convencionales de longitud: Palmo - Pie - Paso.

Mide el **pasillo** utilizando los **palmos**, los **pies** y los **pasos**:

¿Cuánto mide? Escríbelo:








Vicente Molinero Claramunt

¿Cuántos centímetros mide la bañera? Utiliza la regla:



El largo de la bañera mide

Mide los objetos situándolos sobre la regla y escribe su medida:

Tijeras cm


Estuche cm

Rotulador cm

Goma cm

Llave cm

Lápiz cm



Identifica las **dimensiones** del **objeto** y cuenta las medidas:




Mide unidades de **alto**

Mide unidades de **largo**



.....
.....

Identifica las **dimensiones** del **objeto** y cuenta las medidas:




Mide unidades de **alto**

Mide unidades de **largo**



.....
.....

Identifica las **dimensiones** del **objeto** y cuenta las medidas:



Mide unidades de **alto**


Mide unidades de **largo**

Mide unidades de **ancho**

.....

.....

Identifica las **dimensiones** del **objeto** y cuenta las medidas:



Mide unidades de **largo**

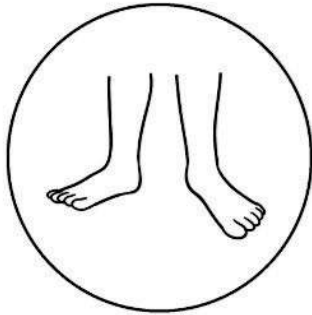
Mide unidades de **ancho**

Mide unidades de **alto**

.....


.....

Une y colorea las **imágenes** con su **significado**:



Palmo


Paso



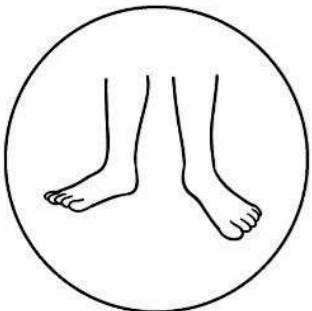
Pie

Une y colorea las **imágenes** con su **significado**:


Paso



Palmo



Pie



Mide el **armario de la clase** utilizando los **palmos**, los **pies** y los **pasos**:

¿Cuánto mide? Escríbelo:







Mide la **clase** utilizando los **palmos**, los **pies** y los **pasos**:

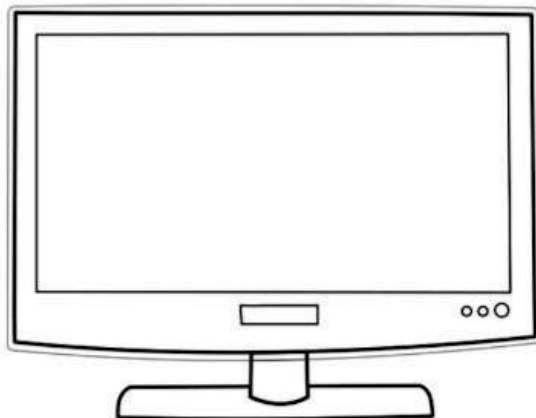
¿Cuánto mide? Escríbelo:







¿Cuántos centímetros mide la televisión? Utiliza la regla:



El alto de la televisión mide

.....

.....

Mide los objetos situándolos sobre la regla y escribe su medida:

Llave cm


Rotulador cm

Goma cm

Estuche cm

Tijeras cm

Lápiz cm



.....

.....