









Cuadernos y lápices


Nayely compró tres cuadernos de diez pesos y, al día siguiente, cinco lápices de cinco pesos.
¿Cuánto pagó Nayely en total?

1. Escribe los números y los signos que faltan; luego, dibuja el resultado.

	+					<div style="border: 1px solid black; width: 150px; height: 80px; border-radius: 15px;"></div>
10						

	+									<div style="border: 1px solid black; width: 150px; height: 80px; border-radius: 15px;"></div>
5										

2. Colorea las barras de los datos conocidos con morado y la barra de la pregunta con rojo; luego, traza el marcador de dirección.



3. Resuelve la operación y anota el resultado en la barra roja anterior.

$$30 + 25 = \square$$

4. Escribe la oración que responde la pregunta del problema.