


La pelota de Lilia

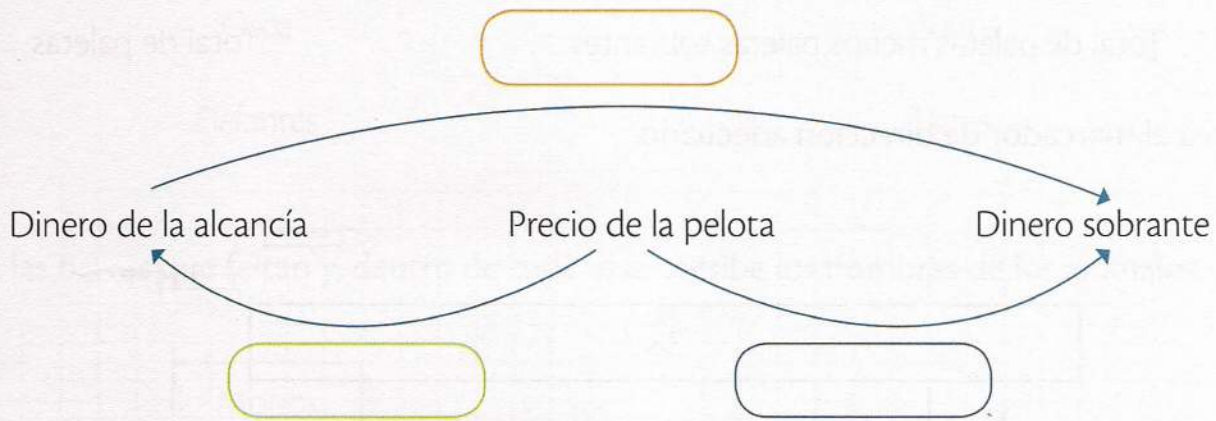
Lilia tenía sesenta pesos en su alcancía y compró una pelota de diez pesos. ¿Cuánto dinero le quedó a Lilia después de comprar la pelota?




1. Dibuja el salto que representa los datos del problema.



2. Escribe **más que** o **menos que** según corresponde.



3. Dibuja la barra que falta, completa los datos y traza el marcador de dirección.



4. Resuelve la operación y anota el resultado en la barra roja.

$$60 - 10 = \boxed{}$$

5. Completa la oración.

Después de comprar la _____, a Lilia le quedaron _____ pesos.