



1. Lee con atención el problema.

A la fiesta de Luis llegaron veinte invitados a mediodía. Si por la tarde llegó la misma cantidad de personas que a mediodía más otras diez, ¿cuántos invitados hubo en la fiesta?




2. Decide de qué o de quién se habla.

De los invitados que llegaron a la fiesta de Luis.



3. Dibuja la barra unidad.

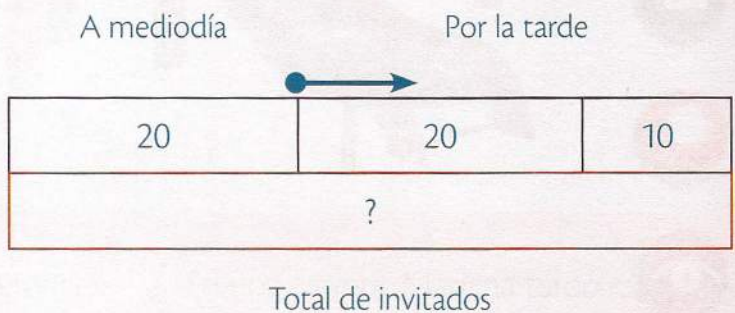


4. Lee el problema frase por frase o número por número.

Llegaron veinte invitados a mediodía. Por la tarde llegó la misma cantidad de personas que a mediodía más otras diez.



5. Ilustra la barra unidad con la información obtenida.



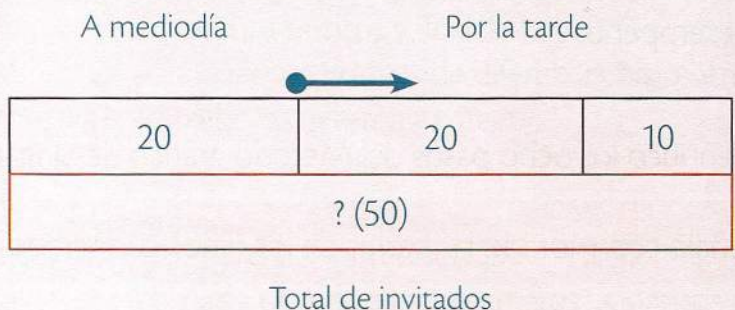
6. Identifica la pregunta.

¿Cuántos invitados hubo en la fiesta?



7. Haz las operaciones y escribe el resultado en el gráfico.

$$20 + 20 + 10 = 50$$



8. Responde el problema.

En la fiesta hubo cincuenta invitados.