



Patinando en el parque





 1. Lee con atención el problema.


Abel y Emilio fueron a patinar al parque. Si Abel dio ocho vueltas y Emilio la mitad de las que dio Abel, ¿cuántas vueltas le faltan a Emilio para igualar las de Abel?


 2. Decide de qué o de quién se habla. _____


 3. Dibuja la barra unidad.



 4. Lee el problema frase por frase o número por número.

 5. Ilustra la barra unidad con la información obtenida.

 6. Identifica la pregunta.

 7. Haz las operaciones y escribe el resultado en el gráfico.

 8. Responde el problema. _____