



1. Lee con atención el problema.

Al principio del curso escolar, los papás de Ignacio compraron tres decenas de lápices para sus hijos. Si a mitad del curso compraron nueve lápices más, ¿cuántos lápices compraron en total?




2. Decide de qué o de quién se habla.

De la cantidad de lápices que compraron los papás de Ignacio.



3. Dibuja la barra unidad.

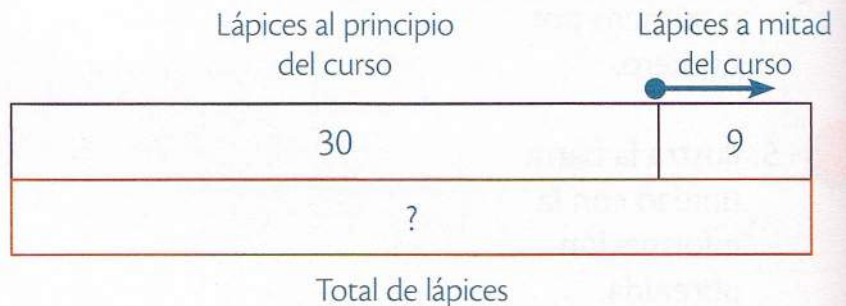


4. Lee el problema frase por frase o número por número.

Al principio del curso escolar compraron tres decenas de lápices.
A mitad del curso compraron nueve lápices más.



5. Ilustra la barra unidad con la información obtenida.



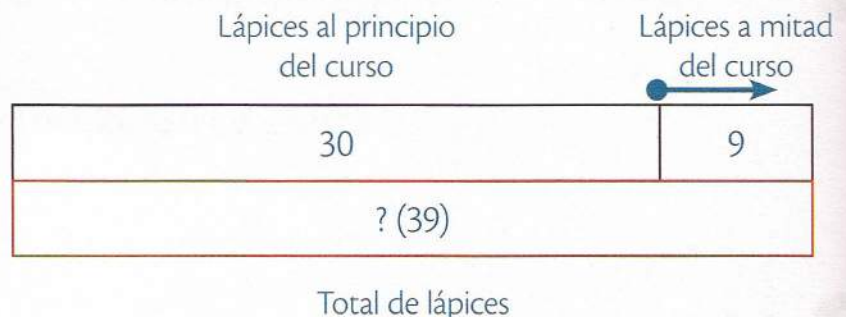
6. Identifica la pregunta.

¿Cuántos lápices compraron en total?



7. Haz las operaciones y escribe el resultado en el gráfico.

$$30 + 9 = 39$$



8. Responde el problema.

Compraron treinta y nueve lápices en total.