



Los muñecos de peluche





 1. Lee con atención el problema.


Para ordenar su habitación, Griselda guardó sus muñecos de peluche en dos bolsas. Si en cada bolsa puso una decena de muñecos y quedaron cinco fuera, ¿cuántos muñecos de peluche tiene en total?


 2. Decide de qué o de quién se habla. _____


 3. Dibuja la barra unidad.




 4. Lee el problema frase por frase o número por número.

 5. Ilustra la barra unidad con la información obtenida.

 6. Identifica la pregunta.

 7. Haz las operaciones y escribe el resultado en el gráfico.

 8. Responde el problema. _____