



La clausura


-  1. Lee con atención el problema.


Karen y Xóchitl vendieron los boletos para la fiesta de clausura escolar. Si Karen vendió ochenta y cinco boletos y Xóchitl ha vendido cuarenta, ¿cuántos boletos más debe vender Xóchitl para igualar la cantidad de Karen?




-  2. Decide de qué o de quién se habla. _____


-  3. Dibuja la barra unidad.



-  4. Lee el problema frase por frase o número por número.

-  5. Ilustra la barra unidad con la información obtenida.

-  6. Identifica la pregunta.

-  7. Haz las operaciones y escribe el resultado en el gráfico.

-  8. Responde el problema. _____
