




## Los cuadernos





-  1. Lee con atención el problema.


Catalina y Alonso forraron sus cuadernos. Si Catalina utilizó ochenta centímetros de cinta adhesiva para pegar los forros y Alonso setenta, ¿cuántos centímetros de cinta utilizaron en total?

-  2. Decide de qué o de quién se habla. \_\_\_\_\_


-  3. Dibuja la barra unidad.




-  4. Lee el problema frase por frase o número por número.

-  5. Ilustra la barra unidad con la información obtenida.

-  6. Identifica la pregunta.

-  7. Haz las operaciones y escribe el resultado en el gráfico.

-  8. Responde el problema. \_\_\_\_\_