



CUADERNO PDF

3º EDUCACIÓN PRIMARIA



ORIENTACIÓN

ESPACIAL



WWW.MATEMATICASINCLUSIVAS.COM



(3º_Esp_01) Describir las posiciones de los objetos en el entorno usando conceptos espaciales.

Describe la **imagen** utilizando la **posición** de los **objetos**:



Encima

Izquierda

Cerca

Abajo

Delante

Vicente Molinero-Caramunt

(3º_Esp_01) Describir las posiciones de los objetos en el entorno usando conceptos espaciales.

Describe la **imagen** utilizando la **posición** de los **objetos**:



Izquierda

Fuera

Abajo

Lejos

Detrás

Vicente Molinero-Caramunt

Describe la **imagen** utilizando la **posición** de los **objetos**:




Detrás

Derecha

Izquierda

Delante

Describe la **imagen** utilizando la **posición** de los **objetos**:



Delante

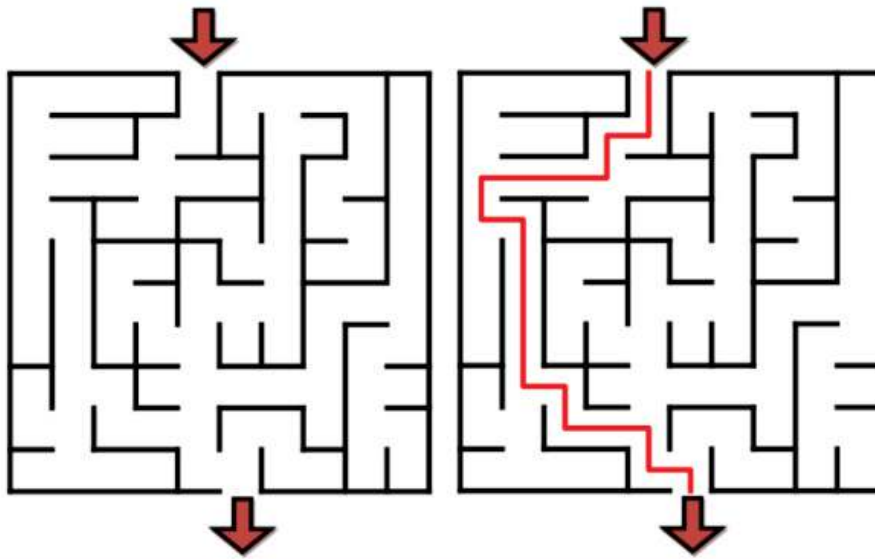
Derecha

Cerca

Abajo

Detrás


Observa el **laberinto** solucionado y traza el **camino** explicándolo:



.....

.....

Observa el **laberinto** y traza el **camino** explicándolo:

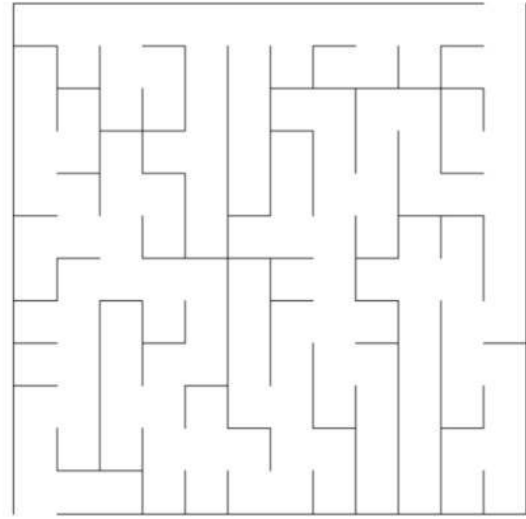



.....

.....

(3º_Esp_02) Realizar sencillos itinerarios siguiendo diversas órdenes espaciales.

Encuentra la **entrada** y completa los siguientes **laberintos**:



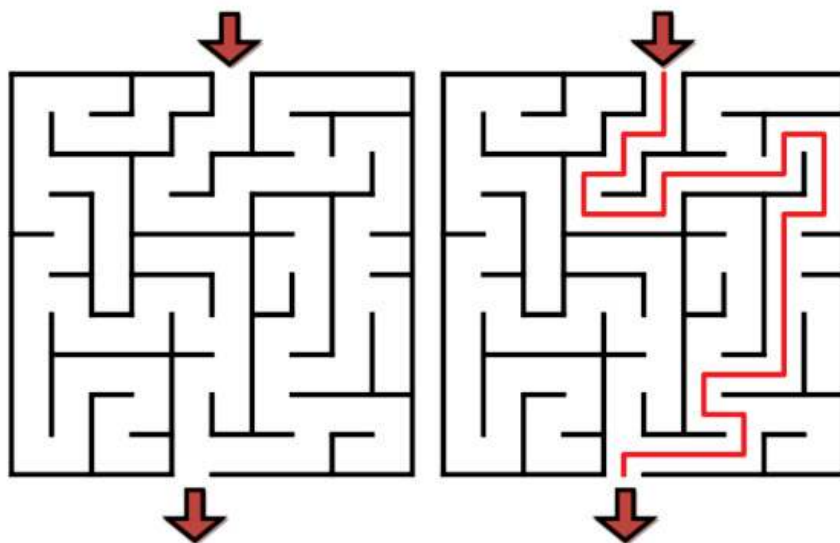
.....

.....

Vicente Molinero-Caramuni

(3º_Esp_02) Realizar sencillos itinerarios siguiendo diversas órdenes espaciales.

Observa el **laberinto** solucionado y traza el **camino** explicándolo:

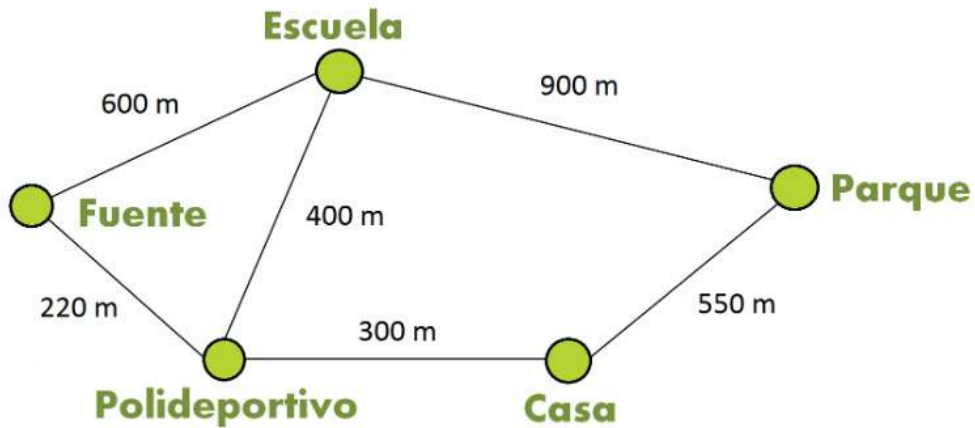


.....

.....

Vicente Molinero-Caramuni

Describe el **camino más largo** para ir desde el **parque** hasta la **fuente**:

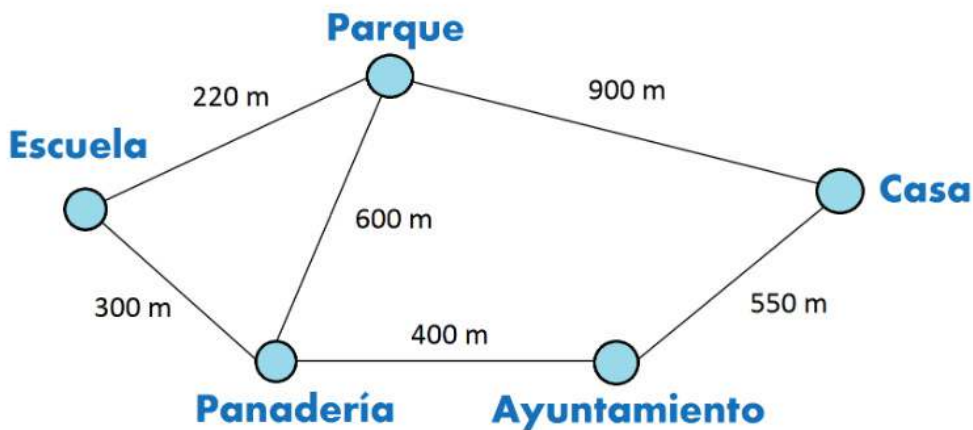


¿Qué distancia hay entre los dos puntos? Hay

.....

.....

Describe el **camino más largo** para ir desde el **parque** hasta la **casa**:



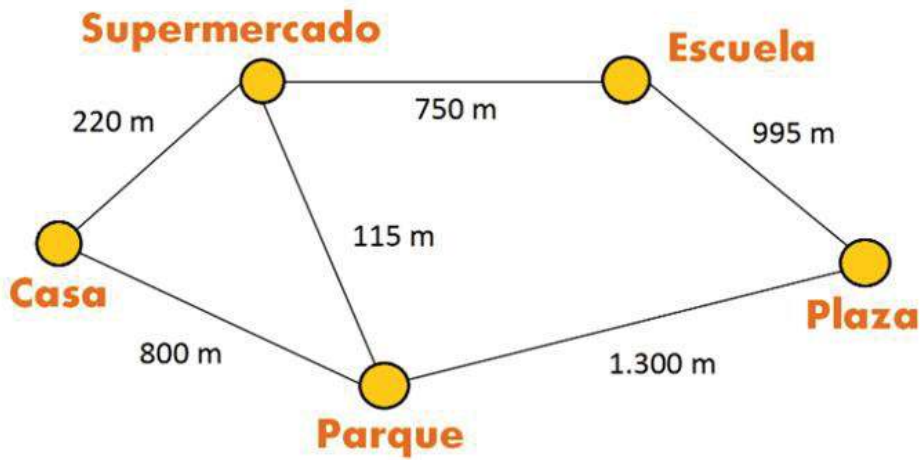
¿Qué distancia hay entre los dos puntos? Hay

.....

.....

(3º_Esp_03) Establecer las instrucciones espaciales que quíen a un lugar concreto del plano.

Describe el **camino más largo** para ir desde la **casa** hasta la **escuela**:



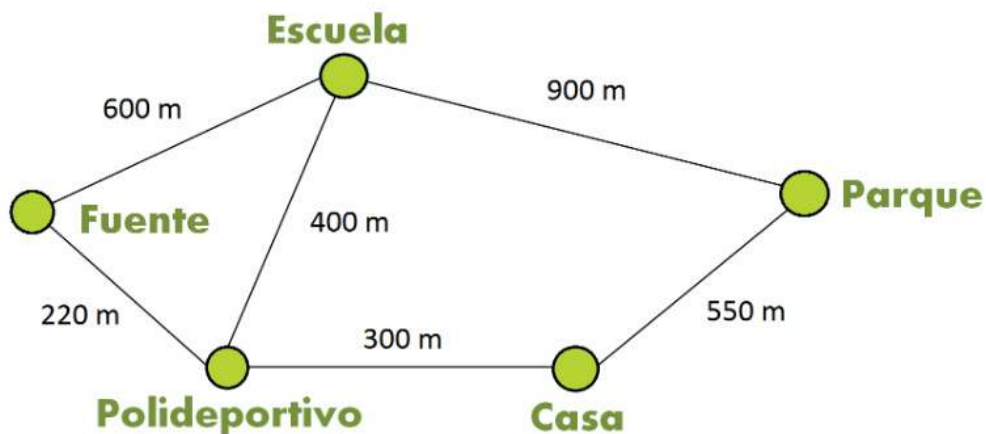
¿Qué distancia hay entre los dos puntos? Hay

.....
.....

Vicente Molinero Caramunt

(3º_Esp_03) Establecer las instrucciones espaciales que quíen a un lugar concreto del plano.

Describe el **camino más largo** para ir desde la **casa** hasta la **escuela**:



¿Qué distancia hay entre los dos puntos? Hay

.....
.....

Vicente Molinero Caramunt